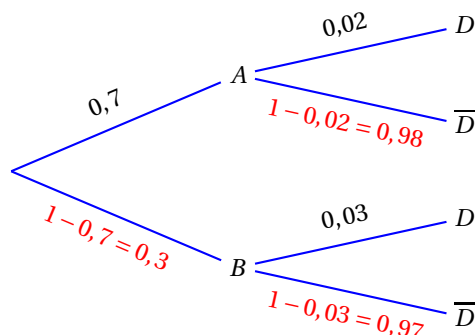


Réponse correcte : d

On appelle A l'événement « la pièce provient du fournisseur A » et B l'événement « la pièce provient du fournisseur B ».

On appelle D l'événement « la pièce présente un défaut » et \bar{D} l'événement contraire.

On représente la situation par un arbre pondéré :



D'après la formule des probabilités totales :

$$P(\bar{D}) = P(\bar{D} \cap A) + P(\bar{D} \cap B) = P(A) \times P_A(\bar{D}) + P(B) \times P_B(\bar{D}) = 0,7 \times 0,98 + 0,3 \times 0,97 = 0,977$$

5. Pour une puissance électrique donnée, le tarif réglementé du kilowattheure est passé de 0,1140 € au 01/07/2007 à 0,1372 € au 01/07/2014.

Cette augmentation correspond à un taux d'évolution arrondi au centième, chaque année, de :

- a. 1,72 % b. 1,67 % c. 2,68 % d. 1,33 %

Réponse correcte : c

Le coefficient multiplicateur d'augmentation entre 2007 et 2014 est de $\frac{0,1372}{0,1140}$.

Il correspond à 7 années, donc en moyenne pour une année il est de $\left(\frac{0,1372}{0,1140}\right)^{\frac{1}{7}} \approx 1,026816$.

Cela correspond à un pourcentage d'augmentation de 2,68%.

EXERCICE 2**5 points****Candidats de ES n'ayant pas suivi l'enseignement de spécialité et candidats de L**

Valentine place un capital c_0 dans une banque le 1^{er} janvier 2014 au taux annuel de 2%. À la fin de chaque année les intérêts sont ajoutés au capital, mais les frais de gestion s'élèvent à 25 € par an.

On note c_n la valeur du capital au 1^{er} janvier de l'année 2014 + n .

Partie A

On considère l'algorithme ci-dessous :

Initialisation

Affecter à N la valeur 0

Traitement

Saisir une valeur pour C

Tant que $C < 2000$ faire

Affecter à N la valeur $N + 1$

Affecter à C la valeur $1,02C - 25$

Fin Tant que

Sortie

Afficher N

1. a. On saisit la valeur 1 900 pour C . Pour cette valeur de C , on recopie et on complète le tableau, en suivant pas à pas l'algorithme précédent ; les valeurs sont arrondies à l'euro :

Valeur de N	0	1	2	3	4	5	6	7	8
Valeur de C	1 900	1 913	1 926	1 940	1 954	1 968	1 982	1 997	2 012

- b. L'algorithme affiche la valeur 8.

Cela signifie qu'à partir de $n = 8$, c'est-à-dire de l'année $2014 + 8 = 2022$, la valeur du capital dépassera 2 000 euros.

2. Pour une valeur de C égale à 1 250, comme $1\,250 \times 1,02 - 25 = 1\,250$, la valeur de C ne changerait pas dans l'algorithme et on ne sortirait jamais de la boucle TANT QUE.

Partie B

Valentine a placé 1 900 € à la banque au 1^{er} janvier 2014. On a donc $c_0 = 1\,900$.

1. L'année $2014 + n$, le capital c_n produit 2 % d'intérêts, donc il devient l'année suivante $1,02c_n$; mais comme il y a 25 euros de frais, on peut dire que, pour tout n , $c_{n+1} = 1,02c_n - 25$.
2. Soit (u_n) la suite définie, pour tout n de \mathbb{N} , par $u_n = c_n - 1\,250$, donc $c_n = u_n + 1\,250$.

- a. Pour tout n de \mathbb{N} :

$$\begin{aligned} u_{n+1} &= c_{n+1} - 1\,250 = 1,02c_n - 25 - 1\,250 = 1,02(u_n + 1\,250) - 1\,275 = 1,02u_n + 1\,275 - 1\,275 \\ &= 1,02u_n \end{aligned}$$

$$u_0 = c_0 - 1\,250 = 1\,900 - 1\,250 = 650$$

Donc la suite (u_n) est géométrique de premier terme $u_0 = 650$ et de raison $q = 1,02$.

- b. La suite (u_n) est géométrique de premier terme $u_0 = 650$ et de raison $q = 1,02$ donc, pour tout n de \mathbb{N} : $u_n = u_0 \times q^n = 650 \times 1,02^n$.

Et comme $c_n = u_n + 1\,250$, on peut déduire que pour tout n de \mathbb{N} , $c_n = 650 \times 1,02^n + 1\,250$.

3. Pour tout n , $u_n > 0$. Comme $1,02 > 1$, on déduit que $1,02u_n > u_n$ ce qui équivaut à $u_{n+1} > u_n$ et donc $u_{n+1} - u_n > 0$.

$$\text{Pour tout } n, c_{n+1} - c_n = u_{n+1} + 1\,250 - (u_n + 1\,250) = u_{n+1} + 1\,250 - u_n - 1\,250 = u_{n+1} - u_n > 0$$

Donc la suite (c_n) est croissante.

4. On peut programmer la fonction $650 \times 1,02^x + 1\,250$ sur la calculatrice et faire afficher le tableau de valeurs de cette fonction.

On peut aussi résoudre l'inéquation $c_n > 2\,100$ d'inconnue n :

$$c_n > 2\,100 \iff 650 \times 1,02^n + 1\,250 > 2\,100$$

$$\iff 650 \times 1,02^n > 850$$

$$\iff 1,02^n > \frac{850}{650}$$

$$\iff \ln(1,02^n) > \ln\left(\frac{850}{650}\right)$$

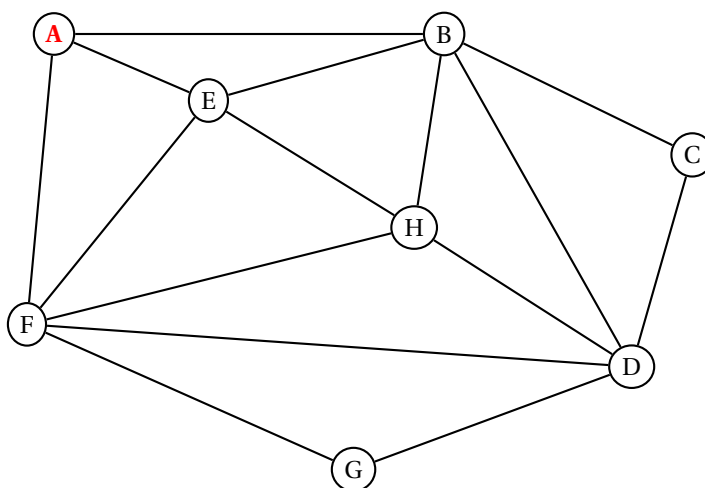
$$\iff n \times \ln(1,02) > \ln\left(\frac{850}{650}\right)$$

$$\iff n > \frac{\ln\left(\frac{850}{650}\right)}{\ln(1,02)}$$

Or $\frac{\ln\left(\frac{850}{650}\right)}{\ln(1,02)} \approx 13,55$, donc il faut 14 années pour que la valeur du capital dépasse 2 100 €.

EXERCICE 2**5 points****Candidats de ES ayant suivi l'enseignement de spécialité**

La coopérative LAFRUITIERE collecte le lait de 7 exploitations de montagne. La situation géographique est représentée par le graphe ci-dessous, noté G_L . La coopérative est située au sommet A, les autres sommets B, C, D, E, F, G et H représentent les différentes exploitations ; les arêtes représentent le réseau routier reliant ces exploitations.

**Partie A**

1. **a.** Un graphe est complet si chaque sommet est relié à tous les autres.
Dans le graphe G_L , le sommet A n'est pas relié au sommet G, donc le graphe G_L n'est pas complet.
- b.** Un graphe est connexe si deux sommets quelconques sont reliés par au moins une chaîne.
C'est le cas donc le graphe G_L est connexe.
2. Organiser une tournée de toutes les exploitations en partant de A et en terminant en A et en passant au moins une fois par chaque client, tout en empruntant une fois et une seule chaque route, c'est chercher un cycle eulérien dans ce graphe.
Un graphe admet un cycle eulérien si et seulement si tous ses sommets sont de degré pair ; or le degré de A (nombre d'arêtes sortant de A) est 3, donc ce graphe ne contient pas de cycle eulérien.
Donc on ne peut pas organiser une tournée de toutes les exploitations en partant de A et en terminant en A et en passant au moins une fois par chaque client, tout en empruntant une fois et une seule chaque route.
3. On appelle M la matrice d'adjacence associée au graphe G_L (les sommets étant pris dans l'ordre alphabétique).

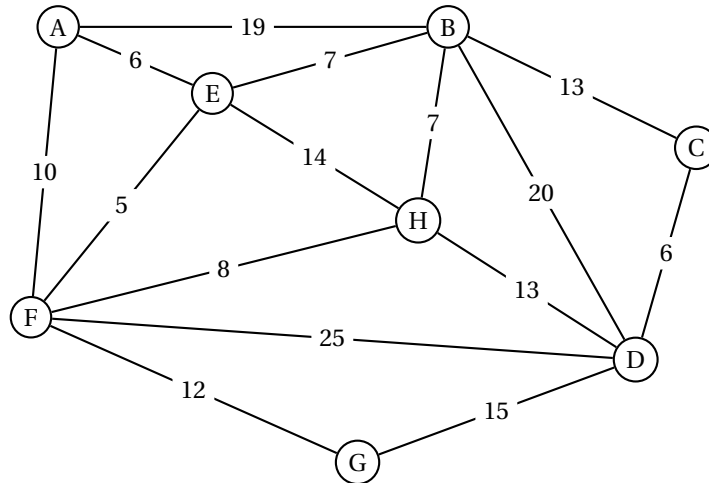
$$\text{On donne la matrice } M^3 = \begin{pmatrix} 4 & 11 & 3 & 7 & 8 & 11 & 3 & 6 \\ 11 & 8 & 7 & 13 & 12 & 8 & 6 & 13 \\ 3 & 7 & 2 & 7 & 5 & 6 & 2 & 4 \\ 7 & 13 & 7 & 8 & 8 & 13 & 7 & 12 \\ 8 & 12 & 5 & 8 & 8 & 12 & 5 & 11 \\ 11 & 8 & 6 & 13 & 12 & 8 & 7 & 13 \\ 3 & 6 & 2 & 7 & 5 & 7 & 2 & 4 \\ 6 & 13 & 4 & 12 & 11 & 13 & 4 & 8 \end{pmatrix}$$

Le nombre de chemins de longueur 3 reliant A à H est le coefficient de la matrice M^3 situé sur la 1^{re} ligne (pour A) et la 8^e colonne (pour H), c'est-à-dire 6.

Il y a donc 6 chemins de longueur 3 reliant A à H.
 Ce sont : AFEH – AEFH – ABEH – AEBH – AFDH – ABDH

Partie B

Les arêtes sont pondérées par les distances entre les exploitations, exprimées en kilomètres. La coopérative doit collecter du lait provenant de l'exploitation D.



L'algorithme de Dijkstra permet de déterminer les plus courts chemins partant du sommet A vers tous les autres sommets :

A	B	C	D	E	F	G	H	On garde
0	∞	∞	∞	∞	∞	∞	∞	A (0)
	19 A	∞	∞	6 A	10 A	∞	∞	E (6)
	19 A 13 E	∞	∞		10 A 11 E	∞	20 E	F (10)
	13 E	∞	35 F			22 F	20 E 18 F	B (13)
		26 B	35 F 33 B			22 F	18 F 20 B	H (18)
		26 B	33 B 31 H			22 F		G (22)
		26 B	31 H 37 G					C (26)
			31 H 32 G					D (31)

Le chemin le plus court pour aller de A vers D est de longueur 31 : $A \xrightarrow{10} F \xrightarrow{8} H \xrightarrow{13} D$

EXERCICE 3**7 points****Commun à tous les candidats****Partie A**Soit f la fonction définie sur $[0; 10[$ par $f(x) = x + e^{-x+1}$.

Un logiciel de calcul formel donne les résultats ci-dessous :

1	$f(x) := x + \exp(-x + 1)$
	// Interprète f // Succès lors de la compilation f
	$x \mapsto x + \exp(-x + 1)$
2	derive ($f(x)$)
	$-\exp(-x + 1) + 1$
3	solve ($-\exp(-x + 1) + 1 > 0$)
	$[x > 1]$
4	derive ($-\exp(-x + 1) + 1$)
	$\exp(-x + 1)$

1. Étude des variations de la fonction f **a.** D'après le logiciel de calcul formel, $f'(x) = -e^{-x+1} + 1$ et $f'(x) > 0 \iff x > 1$.

$$f(1) = 1 + e^0 = 2$$

$$f(0) = 0 + e^1 = e \text{ et } f(10) = 10 + e^{-9} \approx 10,00$$

D'où le tableau de variations de la fonction f :

x	0	1	10
$f'(x)$		-	+
$f(x)$	e	2	$10 + e^{-9}$

b. La fonction f admet donc sur $[0; 10]$ un minimum $f(1) = 2$.**2.** D'après le logiciel de calcul formel, $f''(x) = e^{-x+1}$.Or, pour tout x , $e^{-x+1} > 0$ donc la fonction f' est croissante et donc la fonction f est convexe sur $[0; 10]$.**Partie B**

Une entreprise fabrique des objets. Sa capacité de production est limitée, compte tenu de l'outil de production utilisé, à mille objets par semaine.

Le coût de revient est modélisé par la fonction f où x est le nombre d'objets fabriqués exprimé en centaines d'objets et $f(x)$ le coût de revient exprimé en milliers d'euros.Comme le nombre d'objets est limité à 1 000 et que x désigne le nombre d'objets fabriqués exprimé en centaines, on peut dire que $x \in [0; 10]$.

- La fonction f représente le coût de revient exprimé en milliers d'euros; ce coût est minimum lorsque la fonction f atteint son minimum, c'est-à-dire pour $x = 1$.
Pour que le coût de revient soit minimum, il faut donc produire 100 objets.
- Un objet fabriqué par cette entreprise est vendu 12 €. On appelle marge brute pour x centaines d'objets, la différence entre le montant obtenu par la vente de ces objets et leur coût de revient.

- a. La vente de 100 objets rapporte $100 \times 12 \text{ €}$ soit 1,2 millier d'euros donc la vente de x centaines d'objets rapporte $1,2x$ milliers d'euros.
 - b. La marge brute $g(x)$ est la différence entre le prix de vente et le coût de production donc :
 $g(x) = 1,2x - (x + e^{-x+1}) = 0,2x - e^{-x+1}$
 - c. Sur $[0 ; 10]$, $g'(x) = 1 + e^{-x+1}$. Or pour tout réel x , $e^{-x+1} > 0$, donc $g'(x) > 0$ sur $[0 ; 10]$ et la fonction g est strictement croissante sur cet intervalle.
3. a. La fonction g est dérivable donc continue, et strictement croissante sur $[0 ; 10]$.
 $g(0) = -e < 0$ et $g(10) = 0,2 \times 10 - e^{-9} \approx 2 > 0$
 D'où le tableau de variations de la fonction g :

x	0	α	10
$g(x)$	$-e$	0	$2 - e^{-9}$

D'après ce tableau de variations, on peut dire que l'équation $g(x) = 0$ admet une solution unique α sur l'intervalle $[0 ; 10]$.

- b. $\left. \begin{matrix} g(1) = -0,8 < 0 \\ g(2) \approx 0,03 > 0 \end{matrix} \right\} \Rightarrow \alpha \in [1; 2]$ $\left. \begin{matrix} g(1,9) \approx -0,027 < 0 \\ g(2,0) \approx 0,03 > 0 \end{matrix} \right\} \Rightarrow \alpha \in [1,9; 2]$
- $\left. \begin{matrix} g(1,94) \approx -0,0026 < 0 \\ g(1,95) \approx 0,003 > 0 \end{matrix} \right\} \Rightarrow \alpha \in [1,94; 1,95]$

4. Pour réaliser une marge brute positive, il faut produire x centaines d'objets de façon que $g(x) > 0$; donc il faut que $x > \alpha$.
 On sait que $\alpha \in [1,94; 1,95]$ et que x représente des centaines d'objets.
 La quantité minimale d'objets à produire pour que cette entreprise réalise une marge brute positive est donc de 195.

EXERCICE 4

3 points

Commun à tous les candidats

Soit f la fonction définie sur $[0 ; 1]$ par :

$$f(x) = 2 - 2x$$

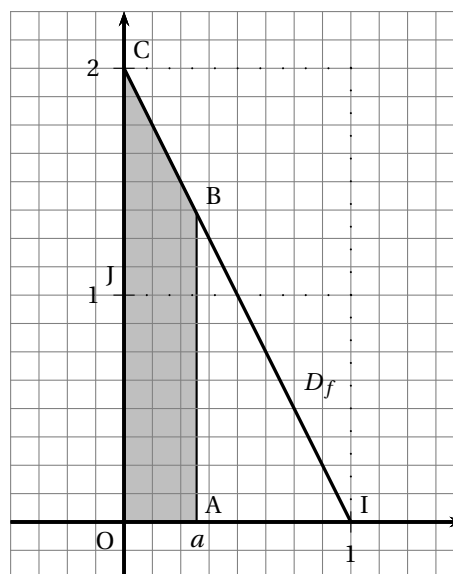
On a tracé ci-contre la droite D_f , représentation graphique de la fonction f dans un repère ortho-normé (O, I, J) du plan.

Le point C a pour coordonnées $(0 ; 2)$.

Δ est la partie du plan intérieure au triangle OIC.

Soit a un nombre réel compris entre 0 et 1; on note A le point de coordonnées $(a ; 0)$ et B le point de D_f de coordonnées $(a ; f(a))$.

Le but de cet exercice est de trouver la valeur de a , telle que le segment $[AB]$ partage Δ en deux parties de même aire.



L'aire du triangle OIC rectangle en O vaut $\frac{OI \times OC}{2} = \frac{1 \times 2}{2} = 1$.

Il faut donc chercher la position du point A de coordonnées $(a; 0)$ pour que l'aire du trapèze OABC soit égale à l'aire du triangle AIB.

Autrement dit, il faut que l'aire du triangle AIB soit la moitié de celle du triangle OIC, soit $\frac{1}{2}$.

L'aire du triangle OIB rectangle en A vaut $\mathcal{A} = \frac{AI \times AB}{2}$.

Le point B a pour abscisse a et pour ordonnée $f(a) = 2 - 2a$; le point A a pour coordonnées $(a; 0)$ donc $AB = 2 - 2a$.

Le point I a pour coordonnées $(1; 0)$ donc $AI = 1 - a$.

$\mathcal{A} = \frac{(1-a)(2-2a)}{2}$ et on doit avoir $\mathcal{A} = \frac{1}{2}$.

On résout dans $[0; 1]$ l'équation $\frac{(1-a)(2-2a)}{2} = \frac{1}{2}$:

$$\frac{(1-a)(2-2a)}{2} = \frac{1}{2} \iff 2-2a-2a+2a^2 = 1 \iff 2a^2 - 4a + 1 = 0$$

Cette équation a pour solutions $a' = \frac{2+\sqrt{2}}{2}$ et $a'' = \frac{2-\sqrt{2}}{2}$.

Mais $a' \notin [0; 1]$ donc pour que les deux aires soient égales, il faut prendre $a = \frac{2-\sqrt{2}}{2} \approx 0,29$.